

ESERCIZIO Grammatiche (1)

Espressioni algebriche

$G = \langle VT, VN, P, S \rangle$, dove:

$VT = \{ +, -, *, /, (,), 1, 2, 3, 4, 5, 6, 7, 8, 9, 0 \}$

$VN = \{ \langle E \rangle, \langle T \rangle, \langle F \rangle, \langle \text{num} \rangle, \langle \text{cifra} \rangle, \langle \text{cifra-non-nulla} \rangle \}$

$S = \langle E \rangle$

1

ESERCIZIO Grammatiche (1)

Espressioni Algebriche

$P = \{$

$\langle E \rangle ::= \langle E \rangle + \langle T \rangle \mid \langle E \rangle - \langle T \rangle \mid \langle T \rangle$

$\langle T \rangle ::= \langle T \rangle * \langle F \rangle \mid \langle T \rangle / \langle F \rangle \mid \langle F \rangle$

$\langle F \rangle ::= \langle \text{cifra} \rangle \mid (\langle E \rangle)$

$\langle \text{cifra} \rangle ::= 0 \mid \langle \text{cifra-non-nulla} \rangle$

$\langle \text{cifra-non-nulla} \rangle ::= 1|2|3|4|5|6|7|8|9$

$\}$

Disegnare il diagramma sintattico di tale grammatica. Determinare poi se le seguenti frasi fanno parte del linguaggio generato da questa grammatica o no, e disegnarne l'albero di derivazione sintattica, e la derivazione left-most:

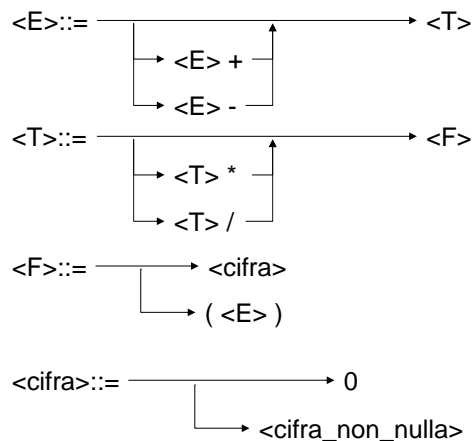
- 1 + 4 / 2
- (1 + 4) / 2

2

ESERCIZIO Grammatiche (1)

Soluzione

Diagramma sintattico:

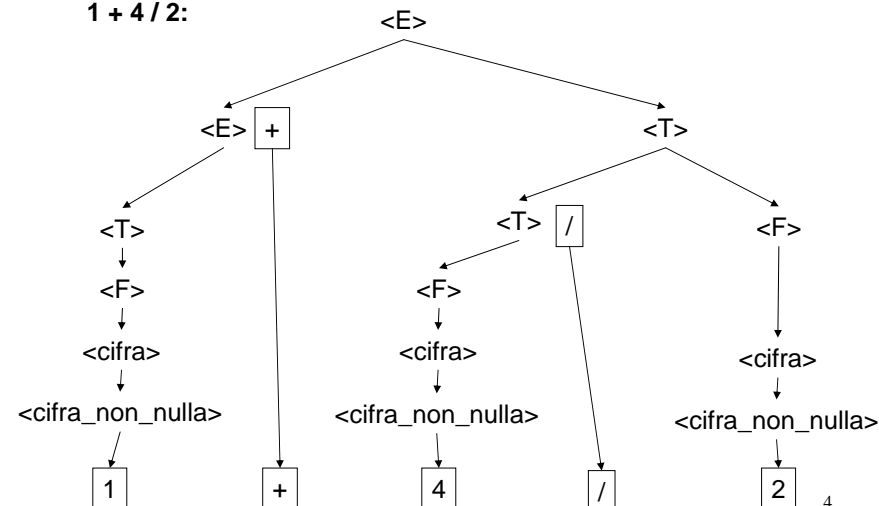


3

ESERCIZIO Grammatiche (1)

Soluzione

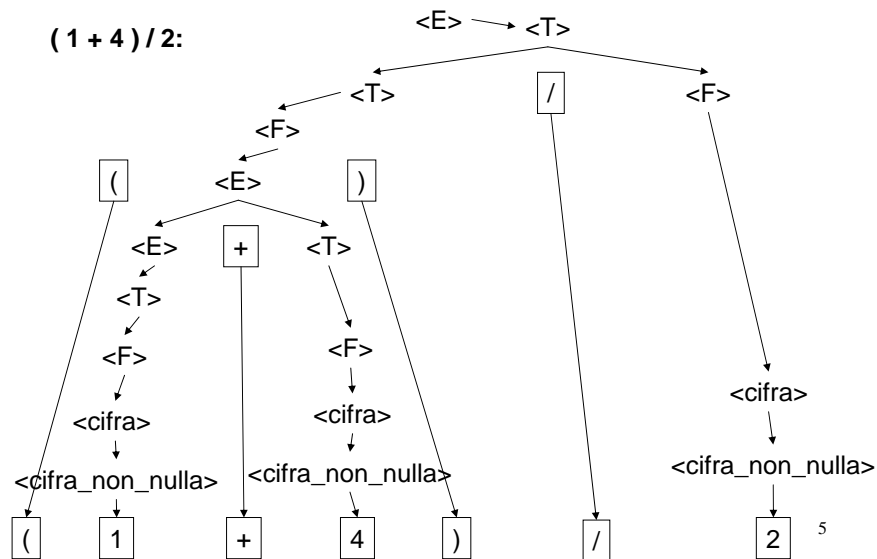
1 + 4 / 2:



4

ESERCIZIO Grammatiche (1)

Soluzione



ESERCIZIO Grammatiche (1)

Soluzione

Derivazione left-most:

1. 1 + 4 / 2

$\langle E \rangle \rightarrow \langle E \rangle + \langle T \rangle$	$\rightarrow \langle T \rangle + \langle T \rangle$
$\rightarrow \langle F \rangle + \langle T \rangle$	$\rightarrow \langle cifra \rangle + \langle T \rangle$
$\rightarrow \langle cifra_non_nulla \rangle + \langle T \rangle$	$\rightarrow 1 + \langle T \rangle$
$\rightarrow 1 + \langle T \rangle / \langle F \rangle$	$\rightarrow 1 + \langle F \rangle / \langle F \rangle$
$\rightarrow 1 + \langle cifra \rangle / \langle F \rangle$	$\rightarrow 1 + \langle cifra_non_nulla \rangle / \langle F \rangle$
$\rightarrow 1 + 4 / \langle F \rangle$	$\rightarrow 1 + 4 / \langle cifra \rangle$
$\rightarrow 1 + 4 / \langle cifra_non_nulla \rangle$	$\rightarrow 1 + 4 / 2$

6

ESERCIZIO Grammatiche (1)

Soluzione

Derivazione left-most:

2. (1 + 4) / 2

$\langle E \rangle \rightarrow \langle T \rangle$	$\rightarrow \langle T \rangle / \langle F \rangle$
$\rightarrow \langle F \rangle / \langle F \rangle$	$\rightarrow (\langle E \rangle) / \langle F \rangle$
$\rightarrow (\langle E \rangle + \langle T \rangle) / \langle F \rangle$	$\rightarrow (\langle T \rangle + \langle T \rangle) / \langle F \rangle$
$\rightarrow (\langle F \rangle + \langle T \rangle) / \langle F \rangle$	$\rightarrow (\langle cifra \rangle + \langle T \rangle) / \langle F \rangle$
$\rightarrow (\langle cifra_non_nulla \rangle + \langle T \rangle) / \langle F \rangle$	$\rightarrow (1 + \langle T \rangle) / \langle F \rangle$
$\rightarrow (1 + \langle F \rangle) / \langle F \rangle$	$\rightarrow (1 + \langle cifra \rangle) / \langle F \rangle$
$\rightarrow (1 + \langle cifra_non_nulla \rangle) / \langle F \rangle$	$\rightarrow (1 + 4) / \langle F \rangle$
$\rightarrow (1 + 4) / \langle cifra \rangle$	$\rightarrow (1 + 4) / \langle cifra_non_nulla \rangle$
$\rightarrow (1 + 4) / 2$	

7

ESERCIZIO RAPPRESENTAZIONE (2)

Un elaboratore rappresenta i numeri interi su 8 bit dei quali 7 sono dedicati alla rappresentazione del modulo del numero e uno al suo segno. Indicare come viene svolta la seguente operazione aritmetica e determinarne il risultato traslandolo poi in decimale per la verifica:

39 - 91

8

ESERCIZIO RAPPRESENTAZIONE (2)

39 -> 0 0100111
91 -> 0 1011011

Tra i moduli dei numeri si esegue una sottrazione:

```
1011011
0100111
-----
0110100
```

che vale 52 in base dieci. Notare che il risultato finale è -52, cioè: 1 0110100.

9

Esercizio analisi (3)

Il seguente programma C compila correttamente? In caso affermativo, quali sono i valori stampati a tempo di esecuzione? (si motivi opportunamente la risposta data)

```
#include <stdio.h>
void F(int v[], int pos) {
    int N=4;  N--;
    *(v+pos+1) = *(v+pos+1) + *(v+pos);
    return; }

int main() {
    int N=4, v[5], i;
    { ++N; }

    for (i=0; i<N; i++)
        v[i]=2*i+1;

    for (i=0; i<N-1; i++)
        if (v[i]) F(v, i);

    printf("Adesso N vale: %d\n", N);
    for (i=1; i++ < (i?N:0); )
        printf("%d\n", v[i-1]);
    return 0; }
```

10

Esercizio analisi (3) Soluzione

Il programma compila correttamente e stampa:

```
Adesso N vale: 5
4
9
16
25
```

- la funzione **F** si limita a modificare il valore dell'array con indice (**pos+1**) sommandogli il valore contenuto all'indice **pos**,
- Nel **main**, il primo ciclo **for** provvede ad inizializzare l'array **v** ai valori {1, 3, 5, 7, 9}; il secondo ciclo invece invoca ripetutamente la funzione **F**, ed all'uscita dal ciclo il vettore viene a valere {1, 4, 9, 16, 25}.
- Infine viene stampato il valore di **N** (che in seguito al preincremento iniziale passa da 4 a 5), e poi con un ultimo ciclo viene stampato il contenuto del vettore **v** (però solo le ultime 4 posizioni).

11

Esercizio analisi (4)

Il seguente programma C compila correttamente? In caso affermativo, quali sono i valori stampati a tempo di esecuzione? (si motivi opportunamente la risposta data)

```
#include <stdio.h>
#include <stdlib.h>
#define DIM 9

int Funz(char y[], int *N, int *M)
{
    int i;
    (*N)++;
    for (i=(*N)-1; i<*N; i++)
        y[i] = y[*M];
    return *N;
}

int main () {
    char s[] = "Paperone";
    char ss[DIM]; int i=3, N = 2;
    N = (++N)-2;
    N = Funz(s, &N, &i);
    printf("N vale adesso: %d\n",N);
    {
        for (i=0; i<DIM; ++i) {
            *(ss+i) = s[i];
            printf("%c", *(ss+i));
        }
    }
    return 0;
}
```

12

Esercizio analisi (4)

Soluzione

Il programma compila correttamente e stampa:

N vale adesso: 2
Peperone

- La funzione **Funz** incrementa il valore riferito da **N**, e poi assegna all'elemento in posizione ***N-1** del vettore **y** il valore in posizione ***M**; restituisce infine il nuovo valore riferito da **N**
- Il **main** inizia dichiarando alcune variabili, istanziando **N** a 2 e poi modificandolo con un assegnamento al valore 1
- Viene poi invocata la funzione **Funz**, con parametri ("**Paperone**", 1, 3); per quanto detto, viene modificato l'elemento in posizione 1 ('**a**'), a cui viene assegnato il valore in posizione 3 ('**e**')
- Infine l'array **s** viene copiato (elemento per elemento) nell'array **ss**, che viene poi stampato a video

13

Esercizio Record di Attivazione (5)

Si consideri la seguente funzione:

```
int funzione(float a, float b) {
    a = a+b;
    b--;
    if (b > 0)
        return funzione(a, b);
    else
        return a;
}
```

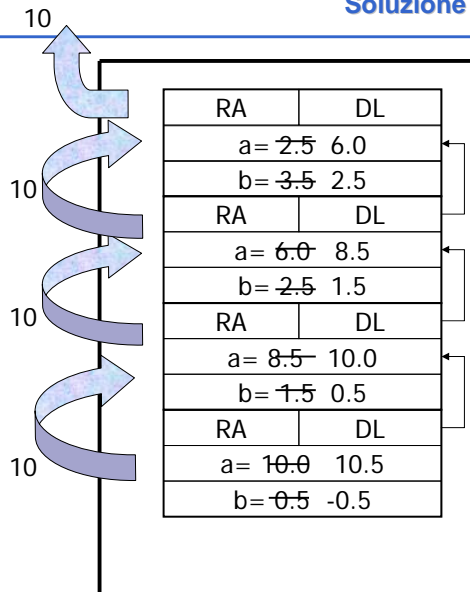
Si scriva il risultato della funzione quando invocata come:

funzione(2.5, 3.5)

e si disegnino i corrispondenti record di attivazione (si faccia particolare attenzione al fatto che la funzione restituisce un valore intero).¹⁴

Esercizio Record di Attivazione (5)

Soluzione



15

Esercizio Record di Attivazione (6)

Si consideri la seguente funzione **W**:

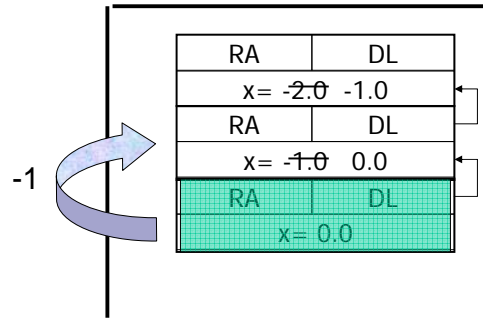
```
double W(int x){
    if (x<0) {
        x++;
        return W(x)+W(x/2);
        x++;
    }
    else
        return -1;
}
```

Si scriva il risultato della funzione quando invocata come **W(-2)** e si disegnino i corrispondenti record di attivazione.

16

Esercizio Record di Attivazione (6) Soluzione

La funzione restituisce il valore -3.00 . Supponendo che la valutazione degli addendi nella somma venga fatta a partire da sinistra, si ottiene prima:

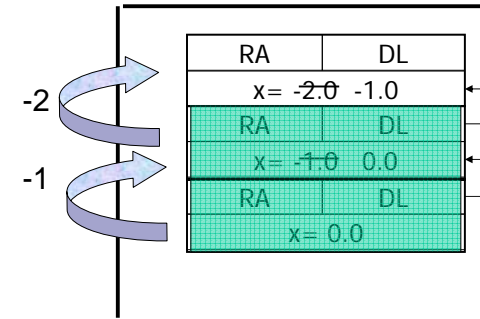


poi l'eliminazione dell'ultimo record, e ...

17

Esercizio Record di Attivazione (6) Soluzione

... dove viene fatta l'ultima invocazione di $W(0)$, con somma finale restituita alla prima invocazione di W .

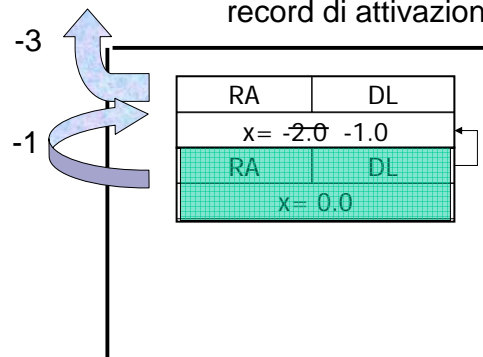


Quindi viene fatta la prima somma con risultato -2.00 , restituita indietro

18

Esercizio Record di Attivazione (6) Soluzione

...poi l'eliminazione dell'ultimo record, e un nuovo ulteriore record di attivazione per $W(0)$:



La somma finale è restituita alla prima invocazione di W .₁₉

Esercizio sintesi (7)

Uno dei più antichi sistemi di codificazione di messaggi segreti si basa sulla sostituzione, secondo un certo ordine, dei caratteri componenti il messaggio.

Ad esempio, dato un messaggio composto dalle lettere:

{a, b, c}

E data una chiave di sostituzione che, per ogni lettera ne associa un'altra:

'a' → 'x'

'b' → 'y'

'c' → 'z'

Il messaggio originale può essere così riscritto:

{x, y, z}

20

Esercizio sintesi (7)

Si vuole costruire un sistema di codifica/decodifica di questo tipo, facendo le seguenti assunzioni:

1. Le lettere componenti il messaggio sono tutte minuscole, ed i messaggi non possono contenere altri caratteri che lettere (no spazi, no numeri)
2. Il codice di sostituzione è dato da un array di 26 caratteri, che viene interpretato nel seguente modo: nella posizione ad indice 0 vi è il carattere che deve sostituire la lettera 'a', in posizione con indice 1 vi è il carattere che deve sostituire la lettera 'b', etc.

21

Esercizio sintesi (7)

Si strutturi la soluzione implementando due funzioni:

```
void crypt( char source[],
           int length,
           char code[DIM_ALPHA],
           char dest[]);
```

```
void decrypt( char source[],
             int length,
             char code[DIM_ALPHA],
             char dest[]);
```

Ed infine si scriva un semplice main di prova.

22

Esercizio sintesi (7)

Soluzione

```
void crypt(char source[], int length, char
code[DIM_ALPHA], char dest[]) {
    int i;

    for (i=0; i<length; i++) {
        dest[i] = code[source[i] - 'a'];
    }
}
```

23

Esercizio sintesi (7)

Soluzione

```
void decrypt(char source[], int length, char
code[DIM_ALPHA], char dest[])
{
    int i;
    int j;
    int pos= -1;

    for (i=0; i<length; i++) {
        for (j=0; j<DIM_ALPHA && pos<0; j++) {
            if(source[i] == code[j])
                pos = j;
        }
        dest[i] = 'a' + pos;
        pos = -1;
    }
}
```

24

Esercizio sintesi (7)

Soluzione

```
#define DIM 256
#define DIM_ALPHA 26

int main()
{
    char source[DIM] = "abc";
    char dest1[DIM] = {'\0',...};
    char dest2[DIM] = {'\0',...};
    char codice[DIM_ALPHA] = "cab";

    printf("ORIGINALE: %s\n", source);
    crypt(source, 3, codice, dest1);
    printf("CRIPTATO: %s\n", dest1);
    decrypt(dest1, 3, codice, dest2);
    printf("DE-CRIPTATO: %s\n", dest2);

    return 0; }
```

25

Esercizio sintesi (8)

Si vuole implementare un programma per il calcolo dell'inflazione su determinati prodotti commerciali.

A tal scopo ogni prodotto è rappresentato tramite una struttura `item`, definita da una stringa `name` con il nome del prodotto, e da due float `old_price` e `new_price` rappresentanti i prezzi.

26

Esercizio sintesi (8)

a) Si scriva una funzione `lettura()` che riceva come parametri di ingresso un vettore `prezzi` di strutture `item`, la dimensione fisica `max` del vettore `prezzi`, e un puntatore a intero `num` che rappresenta la dimensione logica del vettore. La funzione deve leggere da standard input il nome del prodotto ed i due prezzi, e deve copiare tale informazione nella prima posizione libera nel vettore `prezzi`.

27

Esercizio sintesi (8)

La funzione deve terminare se l'utente inserisce come nome del prodotto il termine "fine", oppure se viene raggiunta la dimensione fisica del vettore.

La dimensione logica del vettore `prezzi` così riempito deve essere restituita tramite il parametro `num` (passato appunto per riferimento). Al termine della lettura dei dati la funzione deve restituire il valore 0.

28

Esercizio sintesi (8)

- b) Si scriva un programma `main` che, dopo aver definito un vettore di strutture `item` (di dimensione massima `MAX_ITEM`), invochi la funzione `lettura()` per riempire tale vettore.

Il programma stampi poi a video nome e tasso d'inflazione per ogni prodotto, utilizzando la formula:

$$infl_i = \left(\frac{new_price_i}{old_price_i} - 1 \right) * 100$$

29

Esercizio sintesi (8) soluzione

```
#include <stdio.h>
#include <string.h>

#define DIM 21
#define MAX_ITEM 100

typedef struct {
    char name[DIM];
    float old_price;
    float new_price;
} item;
...
```

30

Esercizio sintesi (8) soluzione

```
int lettura (item prezzi[], int max, int * num) {
    char name[DIM];
    *num = 0;

    printf("Inserire nome prodotto: ");   scanf("%s", name);

    while ((strcmp(name, "fine")) && (*num < max)) {
        strcpy(prezzi[*num].name, name);
        printf("Inserire old price: ");
        scanf("%f", &prezzi[*num].old_price);
        printf("Inserire new price: ");
        scanf("%f%c", &prezzi[*num].new_price);

        (*num)++;

        printf("Inserire nome prodotto: ");
        scanf("%s", name);
    } return 0;
}
```

31

Esercizio sintesi (8) soluzione

```
int main() {
    item V[MAX_ITEM];
    int num, i, result;
    float infl;

    result = lettura(V, MAX_ITEM, &num);

    if (result!=0) {
        printf("Problemi durante la lettura...\n");
        exit(-1);
    }

    for (i=0; i < num; i++) {
        infl = (V[i].new_price/V[i].old_price - 1)*100;
        printf("Inflazione del prodotto %s: %6.2f%%\n", V[i].name, infl);
    }
    return 0;
}
...
```

32